

Επίπεδο  
Α΄ Δημοτικού



## Βασικό θέμα - Π.Μ.Α. (Π.Σ.2021)

- Προσθαφαίρεση αριθμών (1-10).  
(ΠΜΑ: Αρ.Φ.1.10)

## Υλικά - Μέσα

- Φωτοτυπίες του φύλλου εργασίας (εντός αίθουσας) ή
- Κρίκοι και πασσαλάκια (εκτός αίθουσας).

## Διδακτική προσέγγιση

*Περιγραφή του παιχνιδιού για ανοιχτό χώρο.*

Στο παιχνίδι συμμετέχουν τρεις ομάδες με τουλάχιστον ένα μέλος η κάθε ομάδα.

1. Τοποθετούμε τρεις στόχους, όσες και οι ομάδες, και εφοδιάζουμε την κάθε ομάδα με τον ίδιο αριθμό κρίκων, ας πούμε 5 κρίκους. Οι παίχτες των ομάδων στέκοντα στη σειρά, πίσω από τη γραμμή εκτέλεσης, την οποία χαράσσουμε σε απόσταση περίπου τριών μέτρων από τους στόχους.
2. Οι παίχτες μιας ομάδας με τη σειρά τους ρίχνουν τους κρίκους προς τον στόχο. Για παράδειγμα, όπως δείχνει η εικόνα του 1ου παιχνιδιού, η κάθε ομάδα έριξε δύο φορές τους 5 κρίκους και από αυτούς μερικοί πέτυχαν το στόχο (Α΄ομάδα : 1+2, β΄ομάδα: 3+1 και γ΄ομάδα: 3+2).
3. Οι παίχτες επαληθεύουν από κοινού τα αποτελέσματα και τα καταγράφουν για να ανακηρύξουν τους νικητές.

*Περιγραφή της δραστηριότητας μέσα στην τάξη.*

Σε περίπτωση που η δραστηριότητα γίνει μέσα στην τάξη, τότε χρησιμοποιούμε τις φωτοτυπίες και καλούμε τους μαθητές να βρουν πρώτα, ποια από τις τρεις ομάδες κέρδισε στο καθένα από τα τρία πρώτα παιχνίδια. Επισημαίνουμε ότι στο 4ο και στο 5ο παιχνίδι, δεν φαίνεται ο πραγματικός αριθμός των κρίκων που πέτυχαν τον στόχο. Ο πραγματικός αριθμός είναι αυτά που φαίνονται συν ή μείον αυτά που γράφει δίπλα ο αριθμός, π.χ. στο 4ο παιχνίδι η β΄ομάδα έχει 2 κρίκους που φαίνονται +1 = 3 κρίκοι στο στόχο.

## Προεκτάσεις

Το παιχνίδι μπορεί να γίνει και με μεγαλύτερους αριθμούς κρίκων.

## Ενδεχόμενες λύσεις

1ο παιχνίδι: Α=1+2, Β=3+1, Γ=3+2.

2ο παιχνίδι: Α=1+4, Β=1+0, Γ=2+3.



3ο παιχνίδι: Α=2+2, Β=3+3, Γ=3+0.

4ο παιχνίδι: Α=2, Β=2+1, Γ=2-1.


5ο παιχνίδι: Α=3-1 Β=3, Γ=3+1.

# 39 Κρίκοι


Βρες και κύκλωσε τον νικητή κάθε παιχνιδιού.



ΟΜΑΔΑ Α'



ΟΜΑΔΑ Β'



ΟΜΑΔΑ Γ'

1ο ΠΑΙΧΝΙΔΙ	 	 	 
2ο ΠΑΙΧΝΙΔΙ	 	 	 
3ο ΠΑΙΧΝΙΔΙ	 	 	 
4ο ΠΑΙΧΝΙΔΙ		+ 1	- 1
5ο ΠΑΙΧΝΙΔΙ	- 1		+ 1