

81 Ραβδογράμματα

Επίπεδο
Α΄ Δημοτικού



Βασικό θέμα - Π.Μ.Α. (Π.Σ.2021)

- Ραβδογράμματα.
(ΠΜΑ: Σ.Δ.1.3.)

Υλικά - Μέσα

- Συλλογές μικροαντικειμένων.
- Φωτοτυπίες φύλλου εργασίας.

Διδακτική προσέγγιση

Ραβδόγραμμα (α΄)

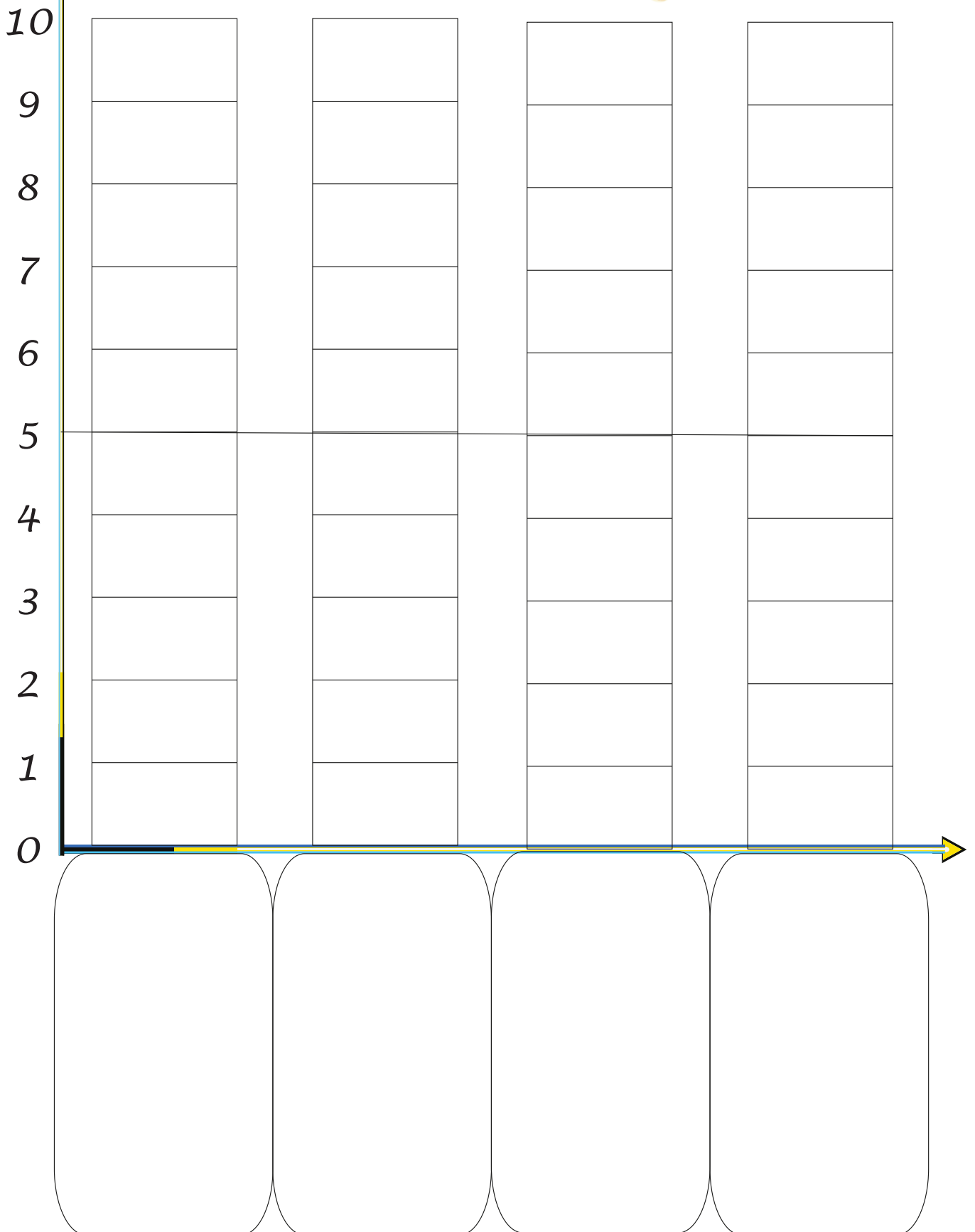
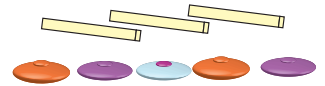
Παράδειγμα. Οι μαθητές τοποθετούν, κάτω από τις στήλες του ραβδογράμματος, 4 διαφορετικές ποσότητες μικροαντικειμένων, π.χ. 4, 5, 6 και 7 φασόλια. Για κάθε φασόλι χρωματίζουν ένα τετραγωνάκι στη στήλη του. Αφού ολοκληρώσουν με τις αναπαραστάσεις υποβάλλουμε ερωτήσεις του τύπου.

- Ποια στήλη έχει περισσότερα φασόλια;
- Πού κοίταξες για να απαντήσεις;
- Πόση διαφορά έχουν η πρώτη με την τελευταία στήλη; κ.ά.

Ραβδόγραμμα (β΄). Φύλλο εργασίας με κενό ραβδόγραμμα του 10.

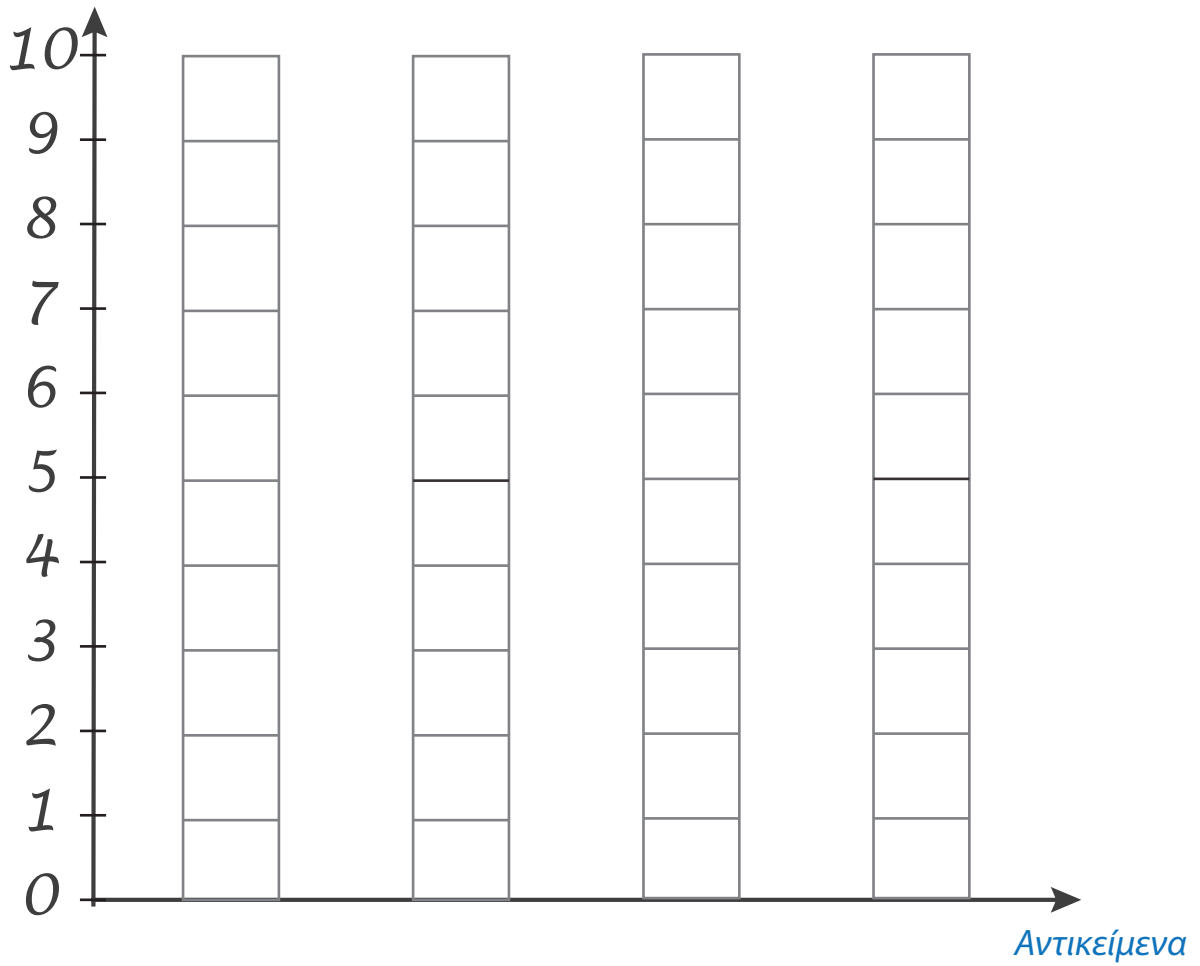
Ραβδόγραμμα (γ΄). Φύλλο εργασίας με κενό ραβδόγραμμα του 100.

81 (α') Ραβδόγραμμα

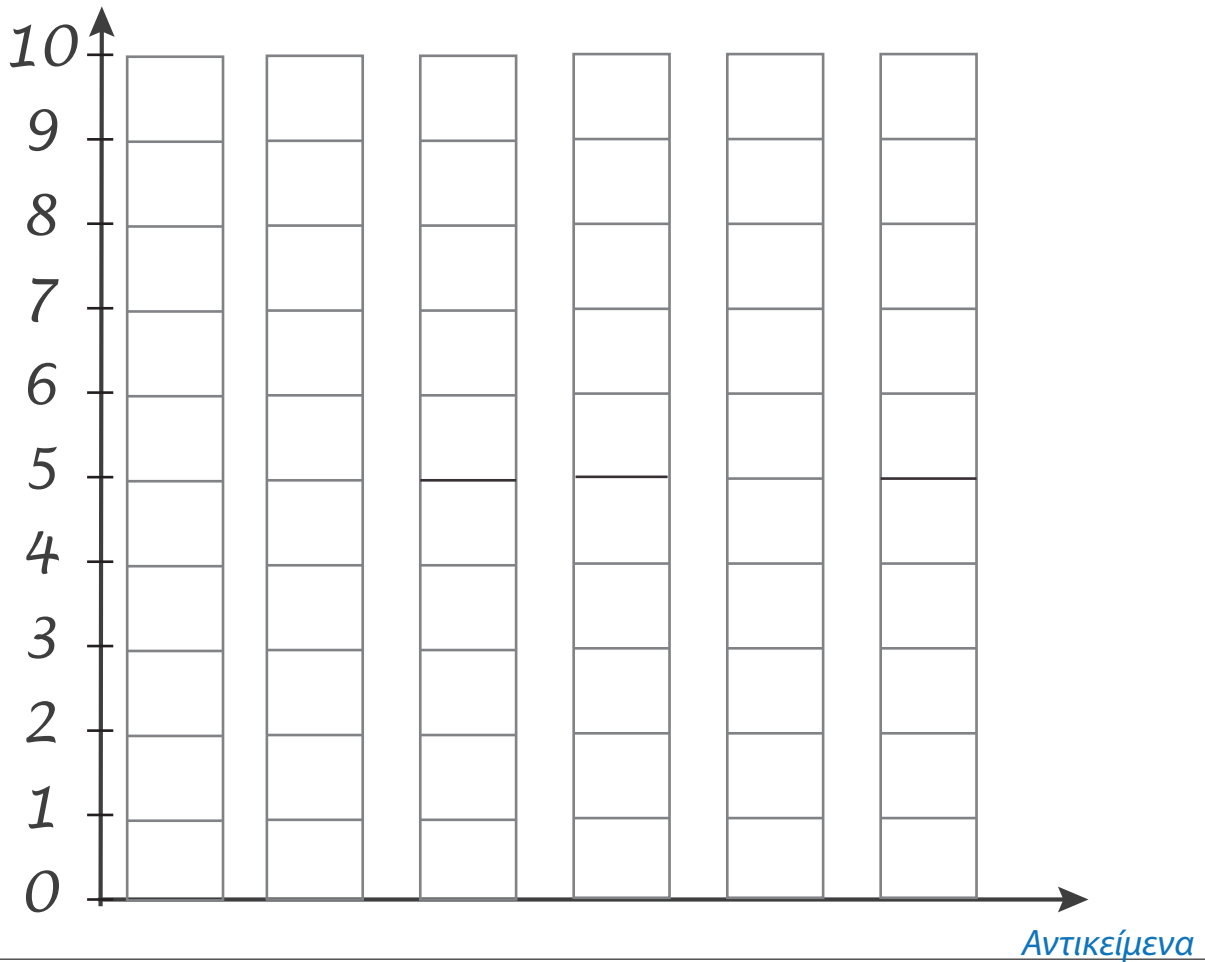


Σύνολο

81 (β') Ραβδόγραμμα



Σύνολο



Σύνολο 81 (γ') Ραβδόγραμμα

