

8.3 Προσθέσεις με αριθμούς 1-10

10



Ζωγράφισε ρομβάκια στις κενές κάρτες για να γίνουν 10 μαζί με της διπλανής. Γράψε τις πράξεις.

5



$$\underline{\quad} + \underline{\quad} = \underline{10}$$

6



$$\underline{\quad} + \underline{\quad} = \underline{10}$$

7



$$\underline{\quad} + \underline{\quad} = \underline{10}$$



$$\underline{\quad} + \underline{\quad} = \underline{10}$$

2



4




3








Συμπλήρωσε με ρομβάκια τις κενές κάρτες, έτσι ώστε οι δύο κάρτες να έχουν 10. Στη συνέχεια κάνε τις αφαιρέσεις.




$$\underline{5} + \underline{\quad} = 10$$



$$\underline{10} + \underline{\quad} = 10$$



$$\underline{10} + \underline{\quad} = 10$$



$$\underline{10} + \underline{\quad} = 10$$



Συμπλήρωσε τις προσθέσεις

$$5 + \underline{\quad} = 8$$

$$4 + \underline{\quad} = 8$$

$$3 + \underline{\quad} = 8$$

$$5 + \underline{\quad} = 9$$

$$4 + \underline{\quad} = 9$$

$$3 + \underline{\quad} = 9$$

$$5 + \underline{\quad} = 10$$

$$4 + \underline{\quad} = 10$$

$$3 + \underline{\quad} = 10$$

$$5 + \underline{\quad} = 6$$

$$4 + \underline{\quad} = 6$$

$$3 + \underline{\quad} = 6$$