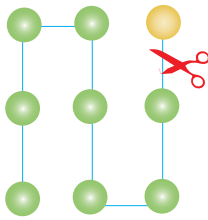


7.5 Αφαιρέσεις αριθμών 0 - 9

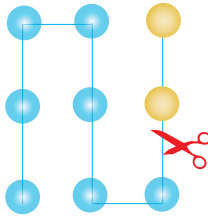


Λογάριασε τις αφαιρέσεις.



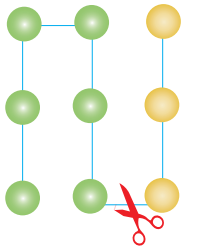
$$9 - 1 = \square$$

$$9 - 8 = \square$$



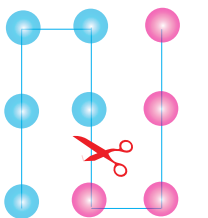
$$9 - \square = \square$$

$$9 - \square = \square$$



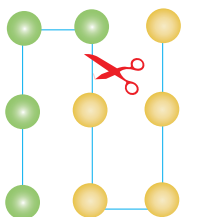
$$9 - \square = \square$$

$$9 - \square = \square$$



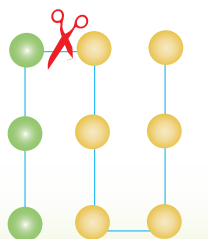
$$9 - \square = \square$$

$$9 - \square = \square$$



$$9 - \square = \square$$

$$9 - \square = \square$$




$$9 - \square = \square$$


$$9 - \square = \square$$

Προβλήματα


Α. Η Ειρήνη έχει 6 αρκουδάκια από τα οποία 3 είναι καφέ και τα υπόλοιπα άσπρα. Χρωμάτισε τα αρκουδάκια της Ειρήνης.



Β. Η Ελένη έχει 7 μπαμπούσκες. Από αυτές τρεις είναι κόκκινες και οι υπόλοιπες γαλάζιες. Χρωμάτισε τις μπαμπούσκες της.



Γ. Ο Νίκος έχει 8 γαλάζια και πράσινα αυτοκινητάκια. Τα 5 από αυτά είναι πράσινα. Χρωμάτισε τα αυτοκινητάκια του.



Δ. Ο Πέτρος έχει 9 αυτοκινητάκια. Από αυτά, 5 είναι κόκκινα, 3 είναι κίτρινα και τα υπόλοιπα γαλάζια. Χρωμάτισε τα αυτοκινητάκια του.

