




6.7 Πρόσθεση και αφαίρεση

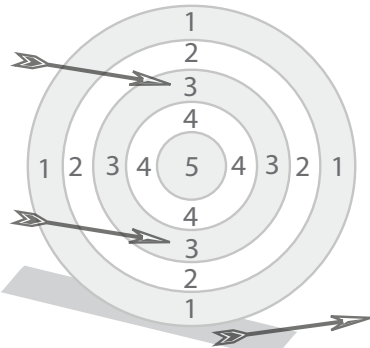
α'  Οι παίχτες έριξαν από 3 βέλη.
- Πόσους πόντους μάζεψε ο καθένας;
(Τα βέλη που δεν πέτυχαν στόχο παίρνουν μηδέν.)

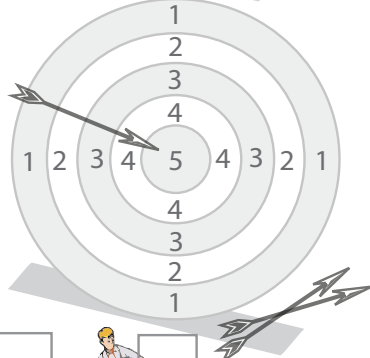




 $\underline{\quad} + \underline{\quad} + \underline{\quad} = \underline{\quad}$





 $\underline{\quad} + \underline{\quad} + \underline{\quad} = \underline{\quad}$



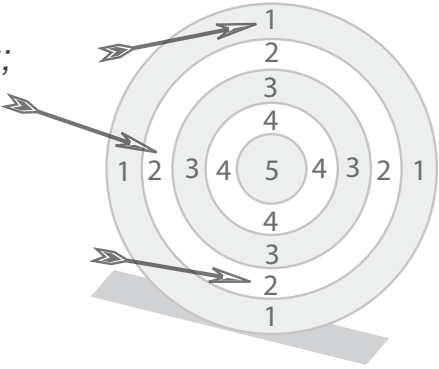



- Ποιος κέρδισε;  

β'  Οι παίχτες έριξαν από 3 βέλη.
- Πόσους πόντους μάζεψε ο καθένας;

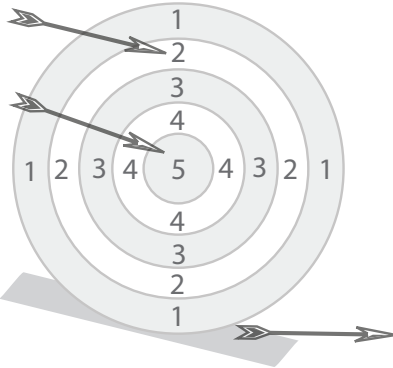




 $\underline{\quad} + \underline{\quad} + \underline{\quad} = \underline{\quad}$





 $\underline{\quad} + \underline{\quad} + \underline{\quad} = \underline{\quad}$



- Ποιος κέρδισε;  

Υπολόγισε τα αθροίσματα και χρωμάτισε την πεταλούδα.

