

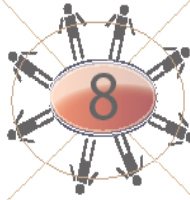
### 6.3 Φίλοι αριθμοί του 8



$4 + \underline{\quad}$



$1 + \underline{\quad}$




**α** Βρες τους φίλους αριθμούς του 8.

$4 + \underline{\quad}$

$6 + \underline{\quad}$



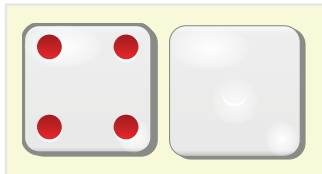
**β** Βάλε τις κουκκίδες που λείπουν και κάνε τις προσθέσεις.



$5 + \underline{\quad} = 8$



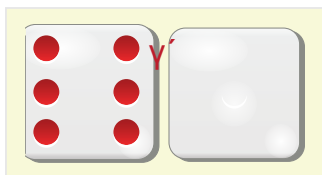
$\underline{\quad} + 5 + \underline{\quad} = 8$



$4 + \underline{\quad} = 8$



$\underline{\quad} + 4 + \underline{\quad} = 8$

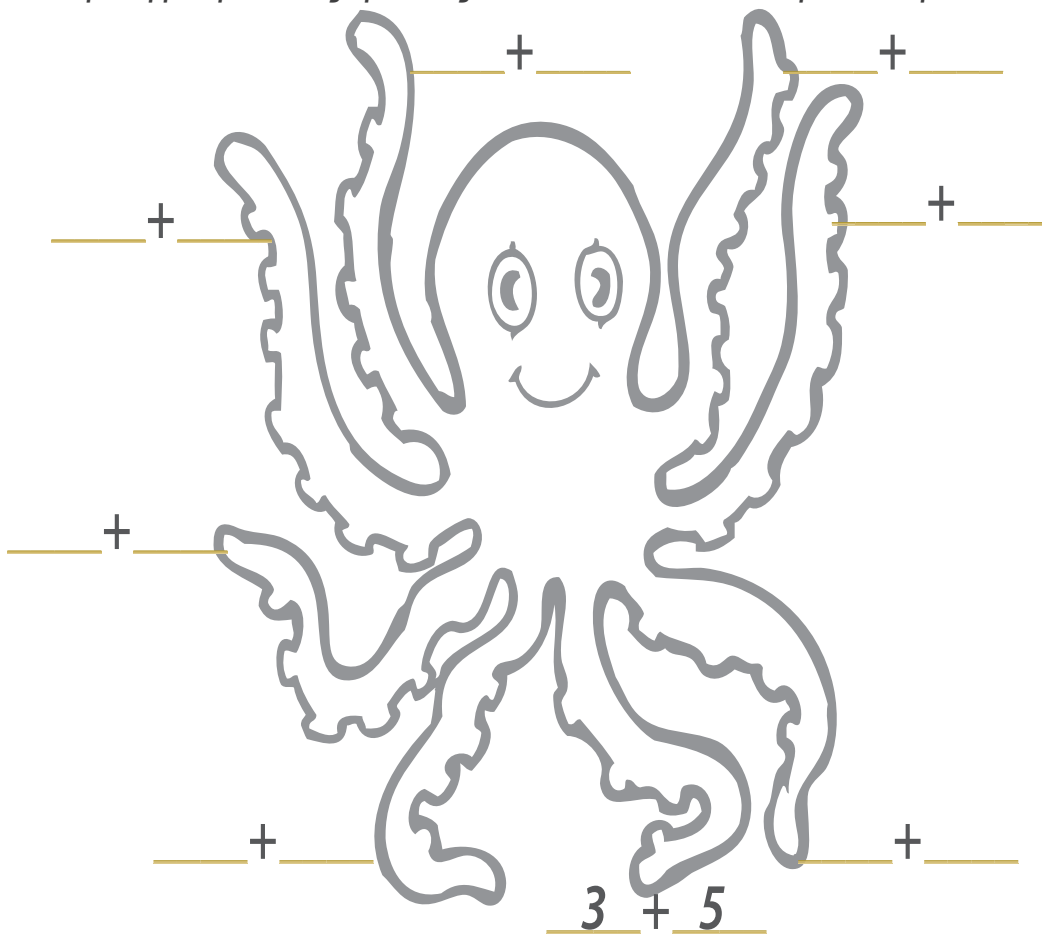


$6 + \underline{\quad} = 8$



$\underline{\quad} + 6 + \underline{\quad} = 8$

Σε κάθε πλοκάμι του χταποδιού βάλε δύο αριθμούς, φίλους του 8.  
 Ύστερα γράψε τους φίλους του 8 κάτω από τη σκέπη του.



8	
3	5

Γράψε τους αριθμούς των σελίδων που φαίνονται 1 - 10.

