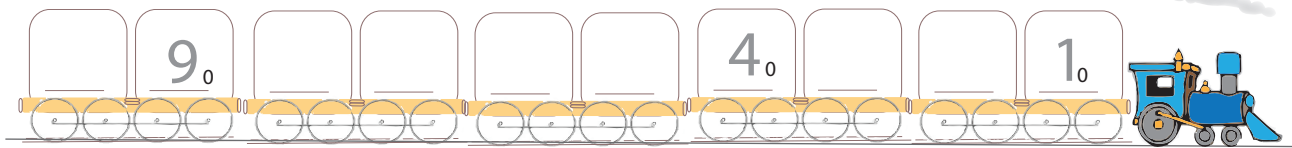
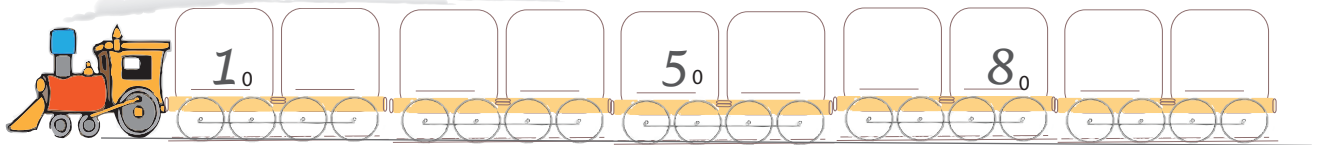


4.5 Όλα στη σειρά τους


Συμπλήρωσε τη σειρά των βαγονιών και χρωμάτισε μπλε 3 βαγόνια.



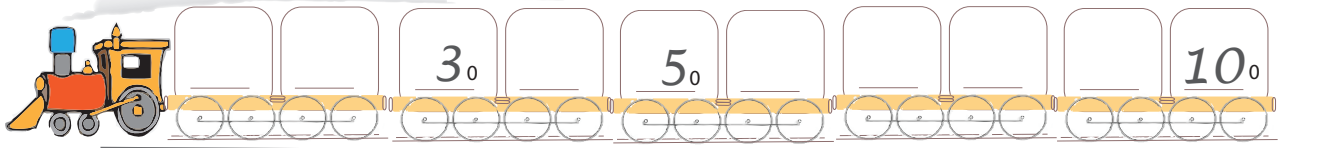
Συμπλήρωσε τη σειρά των βαγονιών και χρωμάτισε κίτρινο το πρώτο (1ο), το τρίτο (3ο) και το έκτο (6ο) βαγόνι.




Συμπλήρωσε τη σειρά των βαγονιών και χρωμάτισε 2 βαγόνια.




Συμπλήρωσε τη σειρά των βαγονιών και χρωμάτισε κίτρινο το ένατο (9ο), και το δέκατο (10ο) βαγόνι.



Συμπλήρωσε τη σειρά των βαγονιών και χρωμάτισε κίτρινο το τέταρτο (4ο) και μπλε το όγδοο (8ο) βαγόνι.



Συμπλήρωσε τη σειρά των βαγονιών και χρωμάτισε 2 κίτρινα και 2 μπλε βαγόνια.





Δείξε το 3ο, το 8ο, το 5ο και το 10ο σκαλί.



10
9
8
7
6
5
4
3
2
1
0

Βρες 5 διαφορές ανάμεσα στις δύο εικόνες. →

