
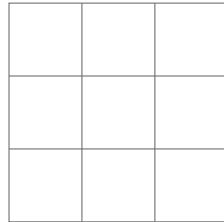
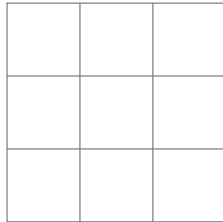
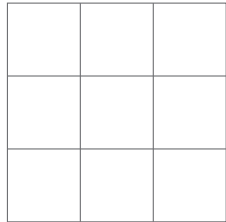





3.6 Σύγκριση επιφάνειας



Χρωμάτισε τόσα τετραγωνάκια, όσες είναι οι κουκκίδες του ζαριού από πάνω.



Χρωμάτισε τις ζαριές.



Ραβδόγραμμα

Χρωμάτισε τις στήλες, έτσι που να δείχνεις τις μαύρες βουλίσσες που έχουν οι πασχαλίτσες.

