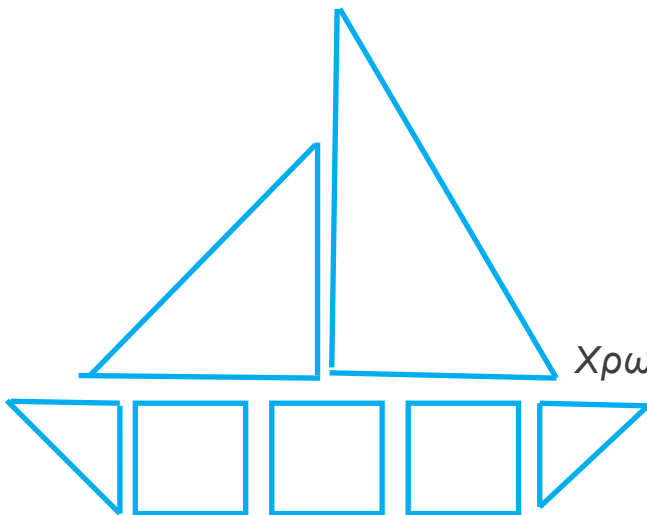

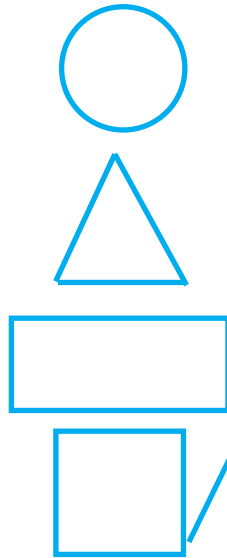
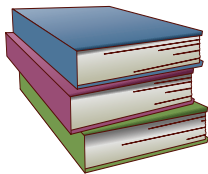
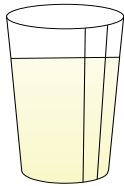


2.3 Επιφάνειες και γεωμετρικά στερεά




Ένωσε τα επίπεδα σχήματα με τα στερεά σώματα.



Χρωμάτισε το καράβκι, δίχρωμο.

Συμπλήρωσε τα μοτίβα.



← Βρες μέχρι και 5 διαφορές, ανάμεσα στις δύο εικόνες.

